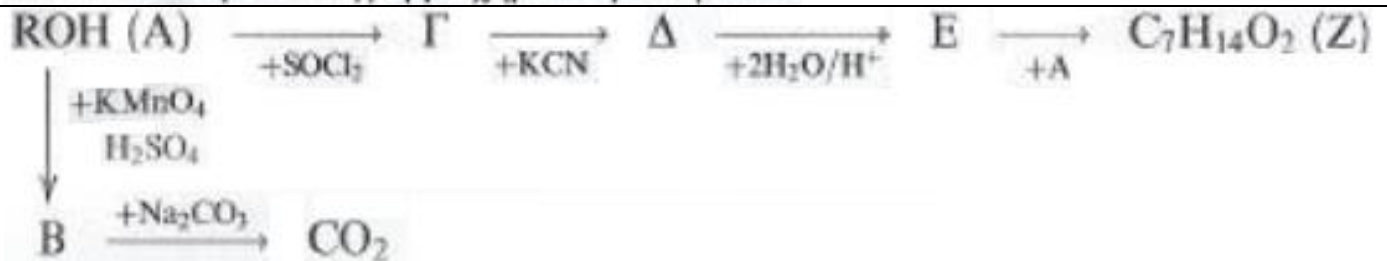


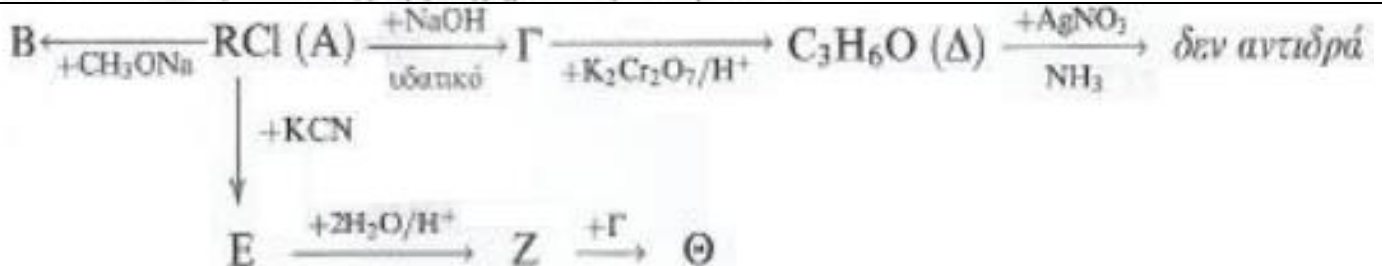
**ΦΥΛΛΟ ΕΡΓΑΣΙΑΣ ΣΕ ΔΕΝΤΡΑ ΟΡΓΑΝΙΚΩΝ ΑΝΤΙΔΡΑΣΕΩΝ**

1. Δίνεται το επόμενο διάγραμμα χημικών μετατροπών:



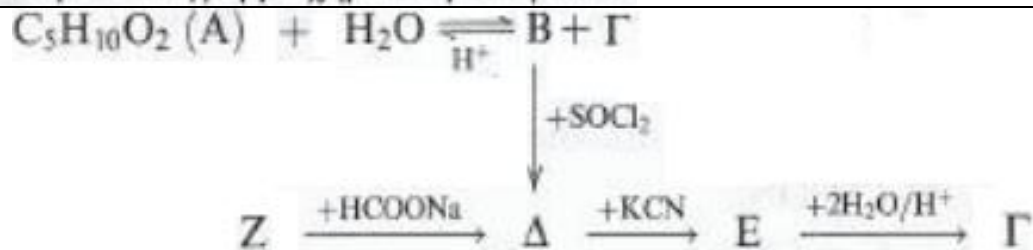
Να γράψετε τους συντακτικούς τύπους των οργανικών ενώσεων Α έως Ζ.

2. Δίνεται το επόμενο διάγραμμα χημικών μετατροπών:



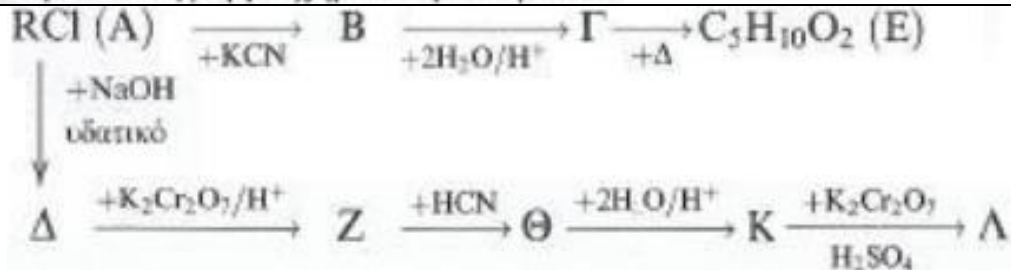
Να γράψετε τους συντακτικούς τύπους και τις ονομασίες των οργανικών ενώσεων Α έως Θ.

3. Δίνεται το επόμενο διάγραμμα χημικών μετατροπών:



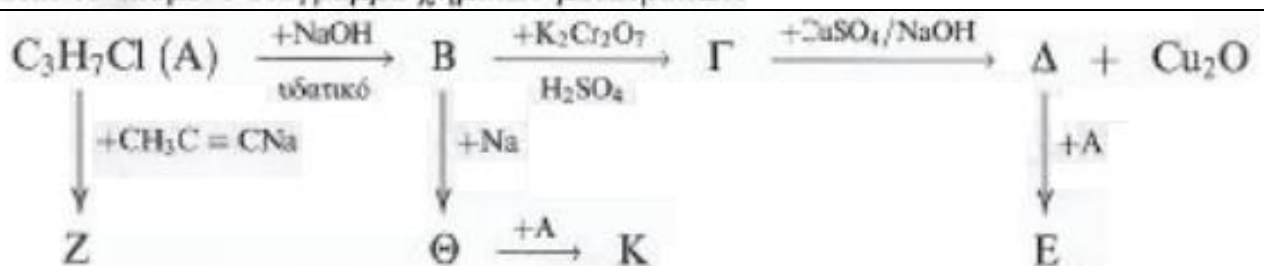
Να γράψετε τους συντακτικούς τύπους των οργανικών ενώσεων Α έως Ζ.

4. Δίνεται το επόμενο διάγραμμα χημικών μετατροπών:



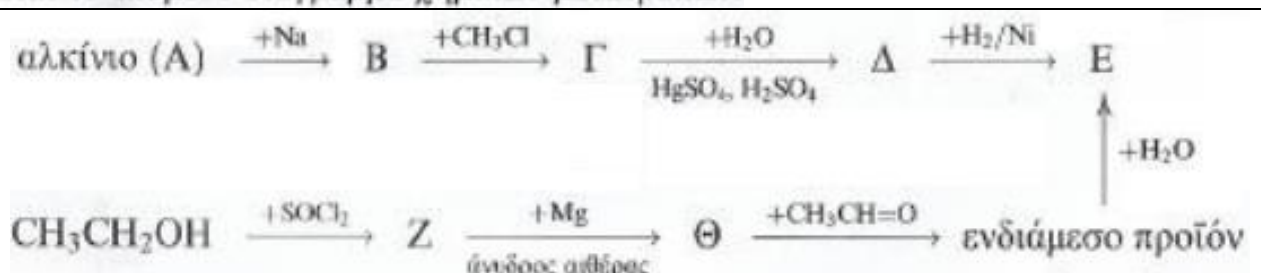
Να γράψετε τους συντακτικούς τύπους και τα ονόματα των οργανικών ενώσεων Α έως Λ.

5. Δίνεται το επόμενο διάγραμμα χημικών μετατροπών:



Να γράψετε τους συντακτικούς τύπους των οργανικών ενώσεων Α έως Κ.

6. Δίνεται το επόμενο διάγραμμα χημικών μετατροπών:



Να γράψετε τους συντακτικούς τύπους και τις ονομασίες των οργανικών ενώσεων Α έως Θ.